

1.Sınıf Saatler Etkinliđi















Akrep 3'ü gösteriyor. Yelkovan

12'yi gösteriyor. Saat: Üç.

1. Aşağıdaki saatler kaç gösteriyor? Bulunuz.

Aklınıza yazınız.

 Saat:	 Saat:	 Saat:
 Saat:	 Saat:	 Saat:
 Saat:	 Saat:	 Saat:
 Saat:	 Saat:	 Saat: