




KESİR KADARINI BOYAMA

Aşağıdaki şekillerin, verilen kesir sayısı kadarını boyayınız ya da tarayınız.



$$\frac{1}{3}$$



$$\frac{2}{4}$$



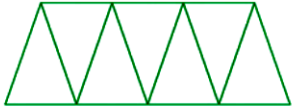
$$\frac{3}{4}$$




$$\frac{4}{9}$$



$$\frac{2}{5}$$



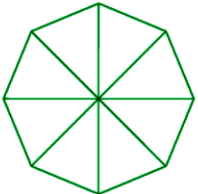
$$\frac{3}{7}$$



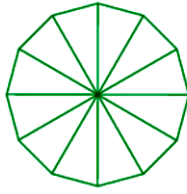
$$\frac{1}{4}$$



$$\frac{4}{6}$$



$$\frac{3}{8}$$



$$\frac{10}{12}$$



$$\frac{2}{8}$$



BÖLME PRONLEMLERİ

96 litrelik su havuzunu 4 musluk aynı akış hızı ile doldurmaktadır. Buna göre bir musluk havuzun kaç litresini doldurur?

42 kişilik bir sınıfta öğrenciler küme çalışması için gruplara ayrılıyor.



Her grupta 3 öğrenci olursa kaç küme yapılır?

Bahçemizin 63 metre olan bir kenarını ağaçlandırmak istedik. 3 metre aralıklarla ağaç dikersek kaç tane ağaç dikmiş oluruz?



Bir çiftçi, her biri günde 20 litre süt veren 2 ineğinin sütlerini 5 kovaya eşit olarak paylaşmak istiyor. Kovalara kaç litre süt koymalıdır?



Manav, 91 portakalı her poşete 7 tane gelecek şekilde paketleniyor. Paketleme için kaç poşete ihtiyaç vardır?



Yandaki pirinçle 5 kilogramlık kaç paket yapabiliriz?

